



**MODUL PLPG  
PENDIDIKAN EKONOMI**

**LEMBAR ASESMEN**

**KONSORSIUM SERTIFIKASI GURU  
2013**



## Lembar Asesmen 1

1. Berdasarkan bentuk dan cara penyajiannya, secara umum, ada 4 klasifikasi, yakni (a) media visual, (b) media audio (c) media audio visual, (d) multi media. Berikut ini adalah contoh media visual:
  - A. Papan flanel, bulletin board, dan poster
  - B. Grafik, diagram, sound effect
  - C. Modul, OHP, mikrofon
  - D. TV, OHP, papan flanel
  - E. Bahan pengajaran terprogram dan OHP
2. Media yang tidak hanya menuntut siswa untuk memperhatikan media itu sendiri atau objeknya saja, namun juga harus berinteraksi dengan media tersebut selama mengikuti pembelajaran, disebut media:
  - A. Media audio
  - B. Media audiovisual
  - C. Media Visual
  - D. Multimedia interaktif
  - E. Media televisi
3. Berikut ini adalah beberapa prinsip yang dapat Anda gunakan sebagai pertimbangan untuk memilih dan menentukan media pembelajaran, kecuali:
  - A. Sesuai dengan tujuan fungsional
  - B. Perlu tenaga khusus untuk menggunakannya
  - C. Murah dan menarik
  - D. Tersedia
  - E. Sesuai dengan tujuan fungsional
4. Beberapa faktor yang perlu dipertimbangkan dalam pemilihan media antara lain:
  - A. Karakteristik materi pembelajaran dan kebutuhan belajar peserta didik
  - B. Perlu tenaga khusus untuk menggunakannya
  - C. Media yang dipilih cukup memadai dengan hasil yang dicapai
  - D. Tidak semua guru bisa memanfaatkannya
  - E. A dan C benar
5. Berikut ini adalah asumsi yang perlu dikembangkan dalam memilih media, kecuali:
  - A. Pemilihan media merupakan bagian integral dari keseluruhan proses pengembangan pembelajaran



- B. Pengembangan media perangkat lunak akan memiliki peranan yang lebih fungsional dibandingkan pengembangan media perangkat keras
- C. Dalam proses pemilihan sering diperlukan kompromi dan dilakukan sesuai dengan kepentingan, kondisi serta fasilitas dan sarana yang ada
- D. Dalam proses pemilihan media pembelajaran yang efektif dan efisien, makna isi dan tujuan haruslah sesuai dengan karakteristik media tertentu
- E. Pengembangan media perangkat keras tidak harus dilakukan secara kondisional sesuai dengan tersedianya fasilitas, sarana dan dana yang ada



## Lembar Asesmen 2

### Pilihlah jawaban yang paling tepat!

1. Perhatikan tabel berikut ini !

A	B	C
1. Motor	1. HP	1. Tas sekolah
2. Jam tangan	2. Seragam sekolah	2. Pakaian bebas
3. Buku	3. Modem internet	3. Laptop

Dari tabel di atas yang termasuk kebutuhan primer bagi seorang pelajar adalah....

- A1, B1 dan C1
  - A1, B2 dan C3
  - A2, B2 dan C2
  - A3, B2 dan C1
  - A3, B1 dan C2
2. Untuk menghindari kebosanan dari rutinitas sekolah, Ardi menghibur diri dengan menonton film atau mendengarkan musik. Menonton film atau mendengarkan musik termasuk dalam kebutuhan menurut....
- Sifat
  - Subyek
  - Waktu
  - Intensitas
  - Kepemilikan
3. Akibat musim kemarau panjang, petani di wilayah gunung kidul mengalami gagal panen. Akibatnya wilayah tersebut mengalami kelangkaan beras. Adapun penyebab kelangkaan beras adalah...
- Harga beras cenderung naik
  - Kebutuhan beras tak terbatas
  - Setiap orang memaksimalkan kepuasannya
  - Persediaan beras tidak mencukupi kebutuhan
  - Petani gagal panen



4. Perhatikan pernyataan-pernyataan berikut ;
1. Tenaga ahli kurang
  2. Sumber daya alam melimpah
  3. Penguasaan ilmu pengetahuan dan teknologi rendah
  4. Kebutuhan manusia terbatas
  5. Jumlah modal terbatas
- Faktor-faktor yang menyebabkan kelangkaan sarana pemuas kebutuhan adalah ....
- a. 1, 2 dan 3
  - b. 1, 3 dan 4
  - c. 1, 3 dan 5
  - d. 2, 3 dan 5
  - e. 3, 4 dan 5
5. Berikut ini merupakan permasalahan yang dihadapi oleh manusia:
1. Ibu Abidah sedang memilih model sepatu Kickers yang akan ia beli
  2. Bapak Lukman sedang menghitung berapa jumlah peserta outbond minggu ini sehingga ia dapat menyiapkan jumlah peralatan yang dibutuhkan
  3. PT. Pertamina menggelar rapat direksi untuk memprediksi ketersediaan pasokan bahan bakar minyak
  4. Siswa SMK merancang bagaimana memproduksi sebuah mobil yang 80% komponennya berasal dari input lokal
  5. Ibu Yusnia merencanakan barang apa yang akan ia produksi untuk usaha barunya pasca pensiun dari pegawai negeri sipil
- Masalah di atas yang merupakan permasalahan ekonomi modern adalah....
- a. 1, 2 dan 3
  - b. 1, 3 dan 5
  - c. 2, 3 dan 4
  - d. 2, 4 dan 5
  - e. 3, 4 dan 5
6. Di bawah ini tabel permasalahan ekonomi dan alternatif pemecahan berikut ini ;

No.	Permasalahan Ekonomi	No.	Alternatif Pemecahan
1	Memproduksi meja dan bangku sekolah	A	Menggunakan data statistic susenas agar diperoleh data yang akurat



2	Memproduksi barang elektronik dengan menggunakan teknologi mesin	B	Mengatur pembiayaan agar dapat ditekan seminimal mungkin
3	Memproduksi obat-obatan untuk masyarakat terkena bencana alam	C	Mengatur pendistribusian hasil produksi agar sampai pada konsumen tepat waktu
4	Membangun rumah bersubsidi bagi masyarakat miskin	D	Mengadakan survey pasar secara cermat dan tersedianya bahan baku yang berkualitas

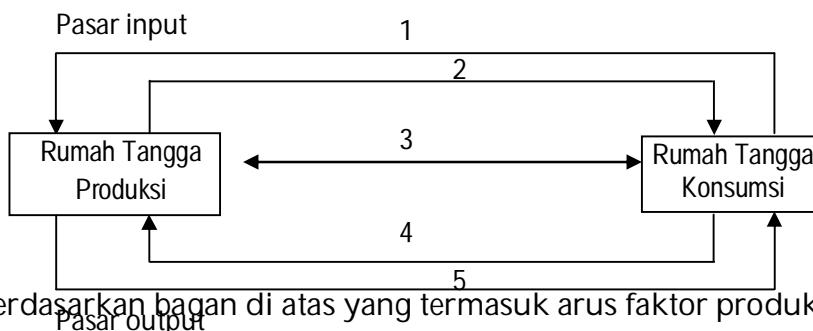
Dari tabel di atas, permasalahan ekonomi dan alternatif pemecahan yang paling tepat adalah...

- a. 1 dengan A
  - b. 2 dengan C
  - c. 3 dengan B
  - d. 4 dengan A
  - e. 4 dengan D
7. Pak Amir dalam setahun dapat menghasilkan komoditas pertanian sebagai berikut:
1. Jagung                      4 ton x Rp 2.500.000
  2. Kacang Hijau            8 ton x Rp 2.000.000
  3. Kedelai                    2 ton x Rp 4.000,000
  4. Lainnya                    Rp 1.600.000
- Tahun ini Pak Amir memutuskan untuk pindah ke kota dengan bekerja sebagai karyawan pabrik dengan gaji Rp 3.000.000 per bulan. Berdasarkan data tersebut, besarnya biaya peluang Pak Amir dalam setahun adalah...
- a. Rp 400.000
  - b. Rp 34.000.000
  - c. Rp 35.600.000
  - d. Rp 36.000.000
  - e. Rp 71.600.000
8. Linda adalah lulusan SMU yang diterima di Universitas Indonesia. Pada saat yang bersamaan, Linda juga telah diterima untuk bekerja penuh waktu di toko dengan gaji Rp 500.000 per bulan, di pabrik dengan gaji Rp 550.000 per bulan dan di



kantor dengan gaji Rp 625.000 per bulan. Jika Linda memutuskan untuk kuliah dan bukan bekerja, maka biaya oportunitasnya adalah....

- Rp 500.000
  - Rp 550.000
  - Rp 625.000
  - Rp 50.000
  - Rp 25.000
9. Manakah dari pernyataan berikut yang merupakan kebaikan dari sistem ekonomi liberal?
- Stabilitas perekonomian terjamin
  - Hak milik individu diakui
  - Sistem pasar mendorong tercapainya efisiensi
  - Setiap individu bebas dalam memilih pekerjaan
  - Semua jawaban benar
10. Manakah pernyataan berikut ini yang merupakan kelemahan sistem ekonomi komando?
- Stabilitas perekonomian terjaga
  - Perekonomian mengalami kesulitan dalam alokasi sumberdaya
  - Barang dan jasa terdistribusi secara merata
  - Tidak ada insentif lebih untuk seseorang yang telah bekerja keras
  - Semua pernyataan benar
11. Bagan interaksi rumah tangga produksi dengan rumah tangga konsumsi :



Berdasarkan bagan di atas yang termasuk arus faktor produksi adalah .....

- 1
- 2



- c. 3
- d. 4
- e. 5

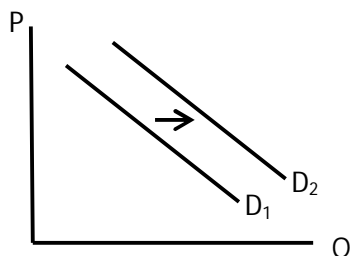
12. Di bawah ini merupakan peranan rumah tangga produsen dan konsumen:

1. Penyedia faktor produksi
2. Pengkonsumsi barang dan jasa
3. Pengkonsumsi factor produksi
4. Menerima harga barang dan jasa
5. Menerima harga faktor produksi
6. Membayar harga factor produksi

Yang merupakan peranan rumah tangga konsumen adalah ....

- a. 1, 2 dan 5
- b. 1, 3 dan 4
- c. 2, 3 dan 4
- d. 2, 3 dan 5
- e. 3, 4 dan 5

13. Perhatikan gambar berikut!



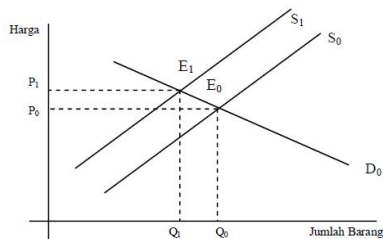
Kurva permintaan bergeser ke atas disebabkan oleh faktor berikut ini kecuali.....

- a. Kenaikan jumlah penduduk
- b. Perubahan selera konsumen
- c. Kenaikan harga barang substitusi
- d. Penurunan harga barang komplementer
- e. Penurunan harga barang





14. Perhatikan gambar berikut:



Penawaran (S) bergeser dari  $S_0$  ke  $S_1$ , harga naik dari  $P_0$  ke  $P_1$  dan produksi menurun dari  $Q_0$  menjadi  $Q_1$ . Kenaikan harga ini disebabkan oleh ....

- Kemajuan teknologi
  - Kenaikan biaya produksi
  - Tingkat upah turun
  - Harga factor produksi turun
  - Peraturan pemerintah
15. Permintaan dan Penawaran Strawberry di Pasar Osowilangun Surabaya ditunjukkan dalam fungsi:  $Q_d = -2P + 8$  and  $Q_s = 2P - 4$ . Keseimbangan pasar yang terjadi adalah....
- (2,2)
  - (2,3)
  - (2,4)
  - (3,2)
  - (3,3)
16. Berikut ini gambaran pasar output :
- Pertamina sebagai penambang dan penyalur minyak di Indonesia
  - Perkebunan teh di Puncak adalah pemasok PT. PTP 14.
  - PT. Kurnia adalah penyalur tenaga kerja rumah tangga di wilayah Ampar.
  - PT. Tirta Wangi adalah penyalur air minum di daerahnya.
  - PT. Kereta Api Indonesia merupakan konsumen PT. INKA
- Yang termasuk pasar monopsoni adalah ....
- 1
  - 2
  - 3
  - 4
  - 5



17. Dampak penetapan tingkat upah minimum regional yang lebih besar daripada upah yang seharusnya terjadi di pasar kompetitif adalah....
- Pengangguran
  - Penurunan upah
  - Kenaikan upah
  - Kelangkaan tenaga kerja
  - Kenaikan pendapatan pekerja

18. Perhatikan matrik di bawah ini:

<b>A</b>	<b>B</b>	<b>C</b>
1. Permintaan datangnya dari rumah tangga konsumsi	1. Faktor produksi asli	1. Permintaan datangnya dari rumah tangga produksi
2. Imbalannya berupa upah/gaji	2. Imbalan jasa berupa sewa	2. Imbalan berupa bunga atau interest
3. Penawaran datangnya dari rumah tangga konsumsi	3. Faktor produksi turunan	3. Penawaran datangnya dari rumah tangga produksi

Berdasarkan matrik di atas yang terkait dengan faktor produksi alam adalah....

- A1, B2 dan C3
  - A1, B3 dan C2
  - A2, B1 dan C1
  - A3, B1 dan C2
  - A3, B2 dan C1
19. Kurva permintaan yang dihadapi oleh sebuah perusahaan dalam pasar persaingan sempurna berbentuk....
- Elastis sempurna
  - Elastis
  - Inelastis sempurna
  - Inelastis
  - Patah



20. Perhatikan matrik di bawah ini:

A		B		C	
1	Terdapat beberapa produsen yang menguasai pasar	1	Satu produsen yang menguasai pasar	1	Banyak produsen yang menguasai pasar
2	Barang berbeda corak	2	Barang homogen	2	Barang sama dan terbatas
3	Sulit memasuki pasar	3	Relatif sulit memasuki pasar akibat persaingan iklan	3	Mudah keluar masuk pasar

Berdasarkan tabel di atas yang merupakan karakteristik pasar persaingan monopolistik adalah....

- a. A1, B2 dan C3
  - b. A1, B3 dan C2
  - c. A2, B1 dan C3
  - d. A2, B3 dan C1
  - e. A3, B1 dan C2
21. Salah satu dampak terjadinya Inflasi bagi masyarakat adalah.....
- a. Kenaikan harga
  - b. Peningkatan pendapatan per kapita
  - c. Daya beli menurun
  - d. Tabungan meningkat
  - e. Tersedianya lapangan kerja baru
22. Berikut penyebab lingkaran kemiskinan, kecuali....
- a. GDP/GNP rendah
  - b. Konsumsi meningkat
  - c. Tabungan masyarakat rendah
  - d. Investasi rendah
  - e. Banyaknya pengangguran
23. Penyebab terjadinya penyebab timbulnya kesenjangan pendapatan adalah.....
- a. Pemerataan industri di semua wilayah



- 
- b. Kenaikan pendapatan nasional yang hanya dinikmati segelintir orang
  - c. Pengeunaan pajak bagi masyarakat
  - d. Kenaikan suku bunga
  - e. Semua jawaban benar
24. Manakah yang termasuk dalam salah satu pendekatan dalam menghitung pendapatan nasional.....
- a. Distribusi
  - b. Inflasi
  - c. Pengangguran
  - d. Pengeluaran
  - e. Permintaan nasional
25. Jumlah apakah yang dihitung dalam perhitungan pendapatan nasional dengan pendekatan produksi.....
- a. Jumlah Nilai akhir
  - b. Jumlah nilai antara
  - c. Jumlah pelaku ekonomi
  - d. Jumlah bahan baku
  - e. Semua jawaban salah
26. Berikut adalah pelaku ekonomi dalam lingkup makro, kecuali.....
- a. Swasta/perusahaan
  - b. Rumah tangga
  - c. Sektor Fiskal
  - d. Sektor luar negeri
  - e. Pemerintah
27. Berikut pendapatan sektor rumah tangga, kecuali....
- a. Pajak
  - b. Sewa
  - c. Profit
  - d. Upah
  - e. Bunga



28. Berikut unsur-unsur/komponen pendapatan nasional kecuali.....
- Produk Nasional Bruto (PNB)
  - Produk Nasional Netto (PNN)
  - Pendapatan Nasional (PN)
  - Net Investment (NI)
  - Pendapatan Perseorangan (PP)

**Soal untuk nomer 28,29, dan 30**

Pendapatan nasional negara X pada tahun 2004 adalah Rp.140 T dengan jumlah penduduk 8 juta jiwa. Kemudian pada tahun 2005 pendapatan nasionalnya meningkat menjadi Rp.150 T dan jumlah penduduknya meningkat menjadi 8,3 juta jiwa

29. Berapakah tingkat pendapatan per Kapita Negara X tahun 2004?
- Rp. 17,5 Juta
  - Rp. 15 Juta
  - Rp. 16 Juta
  - Rp. 18 Juta
  - Rp. 18,5 Juta
30. Berapakah tingkat pendapatan per Kapita Negara X tahun 2004?
- Rp. 18,5 Juta
  - Rp. 19,07 Juta
  - Rp. 19 Juta
  - Rp. 20 Juta
  - Rp. 18,07 juta
31. Berapakah pertambahan pendapatan per kapita pada tahun 2011?
- 3,25%
  - 4,05%
  - 4%
  - 2,5%
  - 0,025%
32. pada akhir tahun 2010 indeks harga konsumen adalah 356 dan pada akhir tahun 2011 indeks tersebut adalah 425. Berapa tingkat inflasi dalam 2011? Tingkat inflasi pada tahun 2011 adalah.....



- a. 19.38%
  - b. 17,45%
  - c. 16,36%
  - d. 18%
  - e. Semua jawaban salah
33. Konsumsi merupakan fungsi dari....
- a. Tabungan
  - b. Pajak
  - c. Investasi
  - d. Pendapatan
  - e. Impor
34. Berikut factor-faktor yang mempengaruhi konsumsi dan tabungan kecuali....
- a. Pendapatan
  - b. Tingkat bunga
  - c. Keadaan perekonomian
  - d. Selera
  - e. Ekspor-impor
35. Keseimbangan pada model perekonomian dua sector terjadi bilamana...
- a. Tabungan sama dengan investasi
  - b. Konsumsi ditambah investasi sama dengan nilai output
  - c. Rencana tabungan sama dengan rencana investasi
  - d. Penerimaan rumah tangga sama dengan penerimaan swasta/perusahaan
  - e. Semua jawaban salah
36. MPC mempunyai nilai.....
- a. Lebih besar dari satu tapi kurang dari dua
  - b. Sama dengan satu
  - c. Kurang dari satu tapi lebih besar dari nol
  - d. Semua jawaban tersebut benar
  - e. Semua jawaban diatas salah



37. Menurut definisi, the marginal propensity to consume adalah....
- Sama dengan  $\Delta C/\Delta Y$
  - Merupakan koefisien perilaku  $b$  dalam persamaan  $C = C_0 + b Y_d$
  - Adalah lereng fungsi konsumsi
  - Seluruh jawaban benar
  - Semua jawaban salah
38. Berikut faktor-faktor ekonomi yang mempengaruhi investasi kecuali....
- Ekspektasi
  - Tambahan pendapatan
  - Nilai kurs
  - Pajak
  - Tingkat suku bunga
39. Jika rencana tabungan adalah  $-40+0,20 Y_d$  dan rencana investasi sebesar 60, tingkat pendapatan keseimbangan adalah...
- 100
  - 400
  - 500
  - 1.000
  - Semua jawaban salah
40. Jika rencana tabungan lebih besar daripada investasi, maka....
- Output akan naik
  - Output akan turun
  - Output tetap sama
  - Semua jawaban tersebut benar
  - Semua jawaban diatas salah
41. Sindy membeli sepasang sepatu dan setelan jas. Dalam ilustrasi tersebut uang mempunyai fungsi sebagai .....
- Satuan pengukur nilai
  - Standar pembayaran
  - Alat penimbun kekayaan
  - Alat tukar menukar



- e. Satuan pengukur nilai
42. Apabila masyarakat membeli obligasi, maka hal tersebut merupakan permintaan uang tunai yang didasarkan pada motif.....
- Spekulasi
  - Berjaga jaga
  - Transaksi
  - Promosi
  - Ekonomi
43. Rumusan secara matematis jumlah uang yang beredar dalam arti luas adalah....
- $M2 = M1 + \text{uang kuasi}$
  - $M2 = M2 + TD + SD$
  - $M1 = M1 - TD - SD$
  - $M2 = M1 - TD$
  - $M1 = M1 - TD + SD$
44. Mata uang dimana nilai nominalnya sama dengan nilai bahan atau intrinsiknya adalah....
- Token money
  - Full Bodied money
  - Uang kartal
  - Uang giral
  - Time deposit
45. Seorang karyawan dan pegawai setiap bulannya pasti menerima gaji sebesar Rp.2000.000,00 atau Rp.2.500.000,00, dalam hal ini uang berfungsi sebagai.....
- Alat tukar
  - Alat pembayaran
  - Standar angsuran
  - Penyimpan nilai kekayaan
  - Satuan hitung
46. Berikut ini merupakan fungsi bank sentral, kecuali...
- Regulator pasar uang





- b. Pengedar uang
  - c. Penarik uang
  - d. Pembuat dan pengedar uang giral
  - e. Pencetak uang
47. Instrument yang digunakan oleh pemerintah untuk mengurangi jumlah uang yang beredar di masyarakat adalah...
- a. Menurunkan tingkat suku bunga
  - b. Membeli obligasi pemerintah
  - c. Menurunkan cadangan di bank
  - d. Membeli saham pemerintah
  - e. Membeli obligasi masyarakat
48. Menurut Keynes konsumsi tergantung pada....
- a. Pendapatan permanen
  - b. Pendapatan sekarang
  - c. Marginal Propensity to consume
  - d. Marginal Propensity to Save
  - e. Pendapatan transtoris
49. Keuntungan yang dihasilkan dari transaksi jual beli surat berharga di pasar modal disebut dengan....
- a. Saham
  - b. Deviden
  - c. Gaji
  - d. Bunga
  - e. Upah
50. Salah satu fungsi bank adalah menyimpan dana pihak ketiga dan menyalurkannya dalam bentuk kredit, dalam hal ini bank berfungsi sebagai...
- a. Financial intermediary
  - b. Lender of the last resort
  - c. Merger bank
  - d. Economic's scale
  - e. Pengumpul modal



- 
51. Fungsi bank sentral adalah mengatur dan mengawasi kegiatan-kegiatan bank umum antara lain dengan cara....
- Membantu melakukan pembayaran pemerintah
  - Membuat peraturan merger bank
  - Menerima pembayaran pajak
  - Membantu membuat neraca bank umum
  - Menerima tabungan masyarakat
52. Motif spekulasi memenuhi fungsi uang sebagai....
- Alat pembayaran
  - Pembayaran tertunda
  - Penimbun kekayaan
  - Pengukur nilai
  - Alat tukar
53. Pembangunan adalah usaha terpadu menuju kesejahteraan. Pembangunan harus diikuti dengan pertumbuhan. Pertumbuhan tidak harus diikuti kesejahteraan. Akan tetapi pertumbuhan tanpa pembangunan akan menambah...
- Pendapatan
  - Kemakmuran
  - Pendidikan
  - Kemiskinan
  - Kesejahteraan
54. Berikut ini adalah faktor penentu pertumbuhan ekonomi, kecuali....
- Tersedianya kekayaan alam
  - Modal yang memadai
  - Nilai budaya masyarakat
  - Tingkat penguasaan teknologi
  - Jumlah penduduk potensial
55. Pengertian pembangunan ekonomi adalah .....
- Suatu proses yang terus menerus yang saling terkait dengan bidang-bidang yang lain



- b. Suatu proses untuk mencapai kenaikan produksi dan penambahan pendapatan
  - c. Suatu proses yang menyebabkan terjadinya perubahan menuju kebaikan pada berbagai segi kehidupan
  - d. Proses perluasan industri dan perdagangan
  - e. Proses kenaikan sarana dan prasarana perekonomian
56. Di bawah ini yang merupakan pernyataan yang benar, kecuali....
- a. Pembangunan ekonomi adalah suatu proses terus menerus
  - b. Pertumbuhan ekonomi adalah usaha untuk meningkatkan out put per kapita
  - c. Pembangunan ekonomi sebagai suatu proses untuk membawa kemajuan dan perbaikan
  - d. Pada pertumbuhan ekonomi out put harus berlangsung cepat dan dalam jangka waktu pendek
  - e. Pembangunan ekonomi merupakan proses multidimensional
57. Profesi berikut ini yang tidak dapat dimasukkan ke dalam angkatan kerja adalah
- a. Guru
  - b. Dokter
  - c. Perawat
  - d. Pembantu Rumah Tangga
  - e. Pilot
58. Deny adalah seorang pekerja di sebuah pabrik rokok. Ketika pabrik pembuatan rokok tersebut beralih pada pembuatan rokok dengan menggunakan tenaga mesin, maka banyak pekerja yang di PHK termasuk diantaranya adalah Deny. Dengan demikian deny termasuk dalam jenis pengangguran...
- a. Musiman
  - b. Friksional
  - c. Sruktural
  - d. Setengah menganggur
  - e. Terbuka
59. Kesempatan yang tersedia bagi masyarakat untuk melakukan kegiatan ekonomi yang menjadi sumber pendapatan bagi yang melakukan kegiatan ekonomi atau



- keadaan yang menggambarkan terjadinya suatu pekerjaan dimasyarakat adalah pengertian dari .....
- a. Lapangan kerja Tenaga kerja
  - b. Kesempatan kerja
  - c. Pusat tenaga kerja
  - d. Pengangguran
  - e. Tenaga kerja
60. Salah satu dampak pengangguran terhadap kegiatan ekonomi adalah .....
- a. Pendapatan nasional akan naik jika terjadi peningkatan produktivitas tenaga kerja
  - b. Pengangguran secara tidak langsung berkaitan dengan pendapatan nasional
  - c. Tingginya jumlah pengangguran akan menyebabkan turunnya *gross domestic product*
  - d. Struktur perekonomian terganggu oleh tingginya pengangguran
  - e. Pengangguran yang banyak berakibat perekonomian suatu Negara tersendat-sendat
61. Dampak penerapan APBN yang deficit adalah...
- a. Uang yang menganggur berfungsi kembali
  - b. Dapat memperluas kesempatan kerja
  - c. Menghemat pengeluaran Negara
  - d. Dapat membiayai proyek-proyek yang beresiko tinggi
  - e. Dapat menekan laju inflasi
62. Pemerintah akan memberlakukan peraturan untuk penggunaan BBM dengan ketentuankendaraan bermotor yang dikeluarkan tahun 2005 keatas harus menggunakan pertamax. Tujuan kebijakan tersebut adalah ....
- a. Menambah subsidi BBM
  - b. Menurunkan penerimaan BBM
  - c. Meningkatkan ekspor minyak
  - d. Menurunkan jumlah produksi premium
  - e. Mengurangi subsidi BBM



63. Dampak penerapan APBN yang surplus adalah...
- Uang yang menganggur berfungsi kembali
  - Dapat memperluas kesempatan kerja
  - Dapat meningkatkan daya beli masyarakat
  - Dapat membiayai proyek-proyek yang beresiko tinggi
  - Dapat menekan laju inflasi
64. Tuan Burhan memiliki obyek pajak berupa:
- Tanah dengan luas 400 m<sup>2</sup> dengan nilai jual Rp 150.000,00/m<sup>2</sup>
  - Rumah seluas 150 m<sup>2</sup> dengan nilai jual Rp 200.000,00/m<sup>2</sup>
  - Taman seluas 100 m<sup>2</sup> dengan nilai jual Rp 50.000,00/m<sup>2</sup>
- PBB terutang yang harus di bayar Tuan Burhan adalah:
- Rp 90.000,00
  - Rp 85.000,00
  - Rp 83.000,00
  - Rp 80.000,00
  - Rp 75.000,00
65. Bapak Tanaka memiliki tanah seluar 400m<sup>2</sup> dan diatasnya didirikan sebuah bangunan rumah seluas 250m<sup>2</sup>. Nilai jual tanah dan bangunan adalah Rp300.000,00/m<sup>2</sup> dan Rp400.000,00/m<sup>2</sup>. Bila NJOPTKP sebesar Rp10.000.000,00 maka pajak terutang Bapak Tanaka adalah ....
- Rp210.000.00
  - Rp220.000.00
  - Rp225.000.00
  - Rp235.000.00
  - Rp880.000.00
66. Tuan Ahmad seorang karyawan PT. ANGKASA mempunyai istri yang tidak bekerja dan 2 orang anak, ia mempunyai gaji Rp. 2.500.000,00 per bulan. Biaya jabatan Rp.50.000,00, iuran pensiun 5 % dari penghasilan.
- Diketahui PTKP :
- Wajib Pajak Rp. 12.000.000,00,-  
Istri/SDuami Rp. 1.200.000,00,-  
Anak Rp. 1.200.000,00,-



Besarnya PPh yang harus dibayar Tn, Ahmad tiap tahun adalah ....

- a. Rp. 615.000,00
- b. Rp. 675.000,00
- c. Rp. 675.500,00
- d. Rp. 780.000,00
- e. Rp. 845.000,00

67. Berikut ini merupakan beberapa kebijakan pemerintah:

- 1) Menaikkan pajak
- 2) Menaikkan tingkat suku bunga
- 3) Kredit selektif
- 4) Menurunkan pengeluaran pemerintah
- 5) Menaikkan subsidi

Kebijakan fiskal yang ditujukan untuk mengatasi inflasi adalah....

- a. 1 dan 2
- b. 1 dan 4
- c. 2 dan 3
- d. 3 dan 5
- e. 4 dan 5

68. Beberapa kebijakan pemerintah:

- (1) Untuk memperbaiki keadaan ekonomi negara, pemerintah mengadakan deregulasi dan debirokratisasi di berbagai bidang.
- (2) Pemerintah berencana membatasi penggunaan bahan bakar bersubsidi jenis premium mulai awal tahun 2011 untuk menghemat anggaran negara.
- (3) Sejak beberapa tahun yang lalu, pemerintah menetapkan kebijakan Upah Minimum Provinsi (UMP) dan Upah Minimum Kota/Kabupaten (UMK) sebagai pengganti Upah Minimum Regional (UMR).
- (4) Untuk menekan defisit anggaran, pemerintah mengambil kebijakan dengan cara meminjam baik dari luar negeri maupun dalam negeri.
- (5) Ketika harga beras dan minyak goreng melonjak, pemerintah melalui PERUM BULOG melakukan Operasi Pasar.
- (6) Dalam rangka meningkatkan pendapatan daerah, pemerintah daerah DKI Jakarta menambah objek pajak yang menjadi sasaran wajib pajak.

Dari pernyataan di atas, yang termasuk kebijakan fiskal adalah... .



- A. (1), (2), dan (3)  
B. (2), (3), dan (5)  
C. (2), (4), dan (6)  
D. (3), (4), dan (5)  
E. (3), (5), dan (6)
69. Untuk menjaga stabilitas ekonomi, pemerintah dapat mengambil beberapa kebijakan ekonomi:  
1) Menaikkan penerimaan pajak  
2) Mengurangi subsidi BBM  
3) Menambah anggaran pendidikan  
4) Menjual surat-surat berharga  
5) Menaikkan tingkat suku bunga  
Yang termasuk kebijakan fiskal adalah .....
- a. 1, 2 dan 3  
b. 1, 3 dan 4  
c. 2, 3 dan 4  
d. 2, 4 dan 5  
e. 3, 4 dan 5
70. Dalam perdagangan efek dikenal dengan istilah pasar perdana dan pasar sekunder. Perdagangan efek dalam pasar perdana terjadi antara....
- a. investor dengan pialang  
b. investor dengan broker  
c. emiten dengan investor  
d. broker dengan emiten  
e. emiten dengan pialang
71. Dalam proses penawaran umum atau *go public* dikenal suatu dokumen yang berisi semua informasi yang relevan dengan keadaan perusahaan *go public*. Dokumen tersebut dikenal dengan istilah....
- a. Dokumen Penawaran Umum  
b. Informasi Penawaran Umum  
c. Pernyataan Emiten  
d. Pernyataan Pendaftaran



- e. Prospektus
72. Sebelum terjadi transaksi, para broker memasukkan baik order jual maupun beli kedalam sistem perdagangan BEI (JATS). Posisi investor dalam melakukan tawaran beli disebut....
- Offer*
  - Bid*
  - hold*
  - Long*
  - Short*
73. Dominasi produk mainan anak impor dari Cina, berdampak pada hal-hal berikut:
- Cadangan devisa menurun
  - Pendapatan nasional meningkat
  - Transfer teknologi
  - Industri mainan dalam negeri berkembang
  - Harga produk mainan rendah
- Manakah yang merupakan dampak positif atas kasus tersebut....
- 1 dan 2
  - 1 dan 3
  - 2 dan 3
  - 3 dan 5
  - 4 dan 5
74. Nilai ekspor yang melebihi nilai impor suatu Negara berdampak pada....
- Neraca perdagangan defisit
  - Neraca perdagangan surplus
  - Neraca pembayaran defisit
  - Neraca pembayaran surplus
  - Neraca keseimbangan
75. Nilai impor yang melebihi nilai ekspor suatu Negara berdampak pada....
- Neraca perdagangan defisit
  - Neraca perdagangan surplus
  - Neraca pembayaran defisit





- d. Neraca pembayaran surplus  
e. Neraca keseimbangan
76. Penurunan cadangan devisa suatu negara akan berakibat:
- depresiasi mata uang negara yang bersangkutan
  - apresiasi mata uang negara yang bersangkutan
  - penurunan pendapatan nasional negara yang bersangkutan
  - penurunan pendapatan per kapita negara yang bersangkutan
  - timpangnya distribusi pendapatan nasional negara yang bersangkutan
77. Berikut ini beberapa komponen pos debit dan kredit neraca pembayaran:
- impor barang dari negara lain
  - ekspor barang ke negara lain
  - penerimaan berbagai transaksi jasa
  - pembayaran berbagai transaksi jasa
  - menginvestasikan dana ke luar negeri
  - penjualan emas ke negara lain
- Yang termasuk dalam komponen pos kredit neraca pembayaran adalah ... .
- 1, 2 dan 3
  - 1, 3 dan 5
  - 2, 3 dan 4
  - 2, 3 dan 6
  - 4, 5 dan 6
78. Berikut ini beberapa komponen pos debit dan kredit neraca pembayaran:
- impor barang dari negara lain
  - ekspor barang ke negara lain
  - penerimaan berbagai transaksi jasa
  - pembayaran berbagai transaksi jasa
  - menginvestasikan dana ke luar negeri
  - penjualan emas ke negara lain
- Yang termasuk dalam komponen pos debit neraca pembayaran adalah ... .
- 1, 2 dan 3
  - 1, 3 dan 5
  - 2, 3 dan 4



- d. 2, 3 dan 6
  - e. 4, 5 dan 6
79. Kegunaan akuntansi secara umum adalah....
- a. Sebagai dasar untuk mengetahui efisiensi penggunaan biaya
  - b. Sebagai bahan keterangan untuk pengambilan keputusan
  - c. Sebagai pertanggungjawaban pemegang saham kepada direksi
  - d. Sebagai pertanggungjawaban komisaris pada direktur
  - e. Sebagai dasar pengembangan perusahaan
80. Bidang akuntansi yang digunakan sebagai informasi yang ditujukan bagi pihak luar dengan menggunakan prinsip-prinsip pada standar akuntansi keuangan adalah....
- a. Akuntansi keuangan
  - b. System akuntansi
  - c. Akuntansi manajemen
  - d. Akuntansi biaya
  - e. Akuntansi perpajakan
81. Laporan keuangan yang diminta bank dari perusahaan memberi informasi terutama tentang....
- a. Jumlah karyawan yang bekerja di perusahaan
  - b. System organisasi yang diterapkan di perusahaan
  - c. Kemampuan perusahaan dalam pengembalian kredit
  - d. Kemampuan manajemen dalam mengendalikan perusahaan
  - e. Masa operasi perusahaan pada waktu yang akan datang
82. Pihak eksternal yang menggunakan informasi akuntansi adalah....
- a. Kepala bagian anggaran
  - b. Kepala bagian pemasaran
  - c. Kreditor
  - d. Karyawan
  - e. Manajer



83. Akuntan yang bekerja memeriksa pembukuan dan jasa konsultasi manajemen serta bekerja secara independen disebut...
- Akuntan publik
  - Akuntan khusus
  - Akuntan internal
  - Akuntan pemerintah
  - Akuntan umum
84. Kreditor memerlukan informasi akuntansi untuk....
- Mengetahui naik turunnya pembayaran dividen
  - Mengetahui kemampuan perusahaan mengembalikan pinjaman
  - Mengetahui kemajuan yang dicapai oleh manajer
  - Mengetahui kujuran dari para pemilik
  - Mengetahui jumlah pegawai perusahaan
85. Kekayaan bersih adalah...
- Selisih antara pendapatan dan pengeluaran
  - Selisih antara kewajiban dan asset
  - Selisih antara arus kas masuk dan arus kas keluar
  - Selisih antara tabungan dan pinjaman
  - Selisih antara utang dan modal
86. Data dari saldo-saldo persamaan dasar akuntansi Toko Sinta per 31 Desember 2011 adalah sebagai berikut:
- |                        |               |
|------------------------|---------------|
| Modal 31 Desember 2011 | Rp 18.750.000 |
| Modal 31 Januari 2011  | Rp 20.000.000 |
| Laba tahun berjalan    | Rp 2.000.000  |
- Prive tahun 2011 adalah....
- Rp 3.000.000
  - Rp 3.250.000
  - Rp 4.000.000
  - Rp 5.000.000
  - Rp 5.500.000



87. Batik Ungu memiliki data akuntansi:

Kas	Rp 29.000.000
Piutang	Rp 4.000.000
Peralatan	Rp 17.000.000
Gedung	Rp 53.000.000
Utang usaha	Rp 31.000.000
Utang gaji	Rp 2.000.000
Utang bunga	Rp 6.000.000

Modal yang dimiliki batik ungu adalah....

- Rp 44.000.000
- Rp 54.000.000
- Rp 64.000.000
- Rp 74.000.000
- Rp 84.000.000

88. Di bawah ini data yang dimiliki Toko Arjuna

Pendapatan penjualan	Rp78.000.000
Pendapatan bunga	Rp 23.000.000
Rugi usaha	Rp 123.000.000

Beban yang dikeluarkan Toko Arjuna adalah....

- Rp 225.000.000
- Rp224.000.000
- Rp 223.000.000
- Rp 222.000.000
- Rp 221.000.000

89. Perusahaan yang menjual barang dagang secara kredit akan memiliki bukti transaksi berupa....

- Nota
- Memo kontan
- Faktur
- Kuitansi
- Nota kredit



90.

No.121/06/T	
Telah terima dari	: PT Subur
Uang sejumlah	: Satu juta rupaih
Untuk pembayaran	: Harga penjualan barang dagang dengan faktur No. 354/FTR/06 tertanggal 1 April 2011
	Jakarta, 1 Mei 2011
RP 1.000.000	Kiki

Akibat dari bukti pencatatan transaksi di atas adalah....

- a. Piutang PT Subur bertambah
  - b. Piutang PT Subur berkurang
  - c. Piutang PT ABC bertambah
  - d. Utang PT ABC berberkurang
  - e. Piutang PT ABC berkurang
91. Tahap pencatatan pada siklus akuntansi perusahaan jasa meliputi....
- a. Analisis bukti transaksi, jurnal umum
  - b. Analisis bukti transaksi, jurnal umum, buku besar
  - c. Analisis bukti transaksi, jurnal umum, buku besar, neraca saldo
  - d. Jurnal penutup, jurnal pembalik, neraca saldo setelah penutupan
  - e. Jurnal penyesuaian, kertas kerja
92. Dilunaskan hari ini: agsuran pinjaman bank Rp 500.000 dan bunga pinjaman sebesar Rp 50.000. jurnalnya adalah....
- a. Pinjaman bank                      Rp 500.000  
    Beban bunga                              Rp 50.000  
    Kas    Rp 550.000
  - b. Pinjaman bank                      Rp 550.000  
    Kas    Rp 550.000
  - c. Kas    Rp 550.000  
    Pinjaman bank                              Rp 500.000  
    Pendapatan bunga                              Rp 50.000
  - d. Pinjaman bank                      Rp 500.000  
    Pendapatan bunga                              Rp 50.000



	Kas	Rp 550.000
e.	Pinjaman bank	Rp 50.000
	Beban bunga	Rp 500.000
	Kas	Rp 550.000

93. Pada tahun berjalan pembelian perlengkapan toko Rp 200.000, dibukukan sebagai perlengkapan kantor. Jurnal perbaikannya adalah....

a.	Perlengkapan toko	Rp 200.000
	Kas	Rp 200.000
b.	Perlengkapan kantor	Rp 200.000
	Kas	Rp 200.000
c.	Perlengkapan kantor	Rp 200.000
	Perlengkapan	Rp 200.000
d.	Perlengkapan toko	Rp 200.000
	Perlengkapan kantor	Rp 200.000
e.	Perlengkapan kantor	Rp 200.000
	Perlengkapan toko	Rp 200.000

94. Perhatikan akun berikut....

Debet		Kas Kredit
Mei, 2	1.500.000	

Debet		Peralatan Kredit
Mei, 2	500.000	

Debet		Modal BudiKredit
		Mei, 2 2.000.000

Pengisian akun tersebut berasal dari transaksi....

- a. Budi memulai usaha dengan menyetor uang tunai Rp 1.500.000 peralatan senilai Rp 500.000



- b. Membeli peralatan seharga Rp 2.000.000 yang dibayar tunai Rp 1.500.000 sementara sisanya dibayar kemudian
  - c. Dibeli perkakas peralatan Rp 2.000.000
  - d. Budi menyeter modal tunai Rp 500.000 dan peralatan Rp 1.500.000
  - e. Budi mengambil untuk prive berupa uang tunai Rp 1.500.000 dan peralatan Rp 500.000
95. Transaksi-transaksi berikut yang dicatat dalam jurnal umum perusahaan dagang adalah....
- a. Pembelian perlengkapan secara kredit
  - b. Penjualan barang dagangan secara tunai
  - c. Pengambilan barang dagangan untuk keperluan pribadi
  - d. Penjualan barang dagangan secara kredit
  - e. Pembelian kendaraan untuk keperluan perusahaan
96. Diterima faktur no. 112 atas barang dagangan yang dibeli dari Toko Anis senilai Rp 8.000.000 dengan syarat 3/15, n/40. Transaksi di atas dicatat ke dalam jurnal....
- a. Penerimaan kas
  - b. Pembelian
  - c. Umum
  - d. Pengeluaran kas
  - e. Penjualan
97. Apabila digunakan metode periodik, maka pembelian barang dagang secara kredit dijurnal....
- a. Pembelian (D), utang dagang (K)
  - b. Harga perolehan (D), utang dagang (K)
  - c. Persediaan barang dagang (D), pembelian (K)
  - d. Persediaan barang dagang (D), harga (K)
  - e. Persediaan barang dagang (D), utang dagang (K)
98. Apabila digunakan metode perpetual, jurnal untuk pengiriman kembali sebagian barang yang dibeli adalah....
- a. Utang dagang (D), retur pembelian (K)
  - b. Harga perolehan (D), utang dagang (K)



- c. Utang dagang (D), persediaan barang dagang (K)  
 d. Persediaan barang dagang (D), retur pembelian (K)  
 e. Utang dagang (D), utang dagang (K)
99. tanggal 12 Mei 2011 dibeli barang dagang dari PT Mutiara seharga Rp 5.000.000 dengan syarat 2/10, n/30, beban angkut tunai sebesar Rp 300.000 dengan syarat FOB shipping point. Jurnalnya adalah....
- a. Pembelian Rp 5.000.000  
     Kas Rp 5.000.000
- b. Pembelian Rp 5.000.000  
     Utang dagang Rp 5.000.000
- c. Pembelian Rp 5.300.000  
     Utang dagang Rp 5.300.000
- d. Pembelian Rp 5.300.000  
     Kas Rp 5.300.000
- e. Pembelian Rp 5.000.000  
     Beban angkut pembelian Rp 300.000  
     Utang dagang Rp 5.300.000
100. Syarat jual beli dinyatakan franko gudang penjual (FOB shipping point), artinya biaya angkut barang....
- a. Sampai di gudang pembeli ditanggung penjual  
 b. Sampai di gudang penjual ditanggung pembeli  
 c. Sejak dari gudang penjual sampai ke gudang pembeli ditanggung pembeli  
 d. Sejak dari gudang pembeli sampai ke gudang penjual ditanggung pembeli  
 e. Sejak dari gudang penjual sampai ke gudang pembeli ditanggung penjual
101. 2/10,n/30 adalah syarat pembayaran yang berarti....
- a. Masa potongan sampai 30 hari  
 b. Potongan tunai 30% apabila dibayar setelah 10 hari  
 c. Potongan tunai 10% apabila dibayar setelah 30 hari  
 d. Potongan tunai 2% apabila dibayar 10 hari dengan jangka waktu kredit selama 30 hari  
 e. Potongan pembelian 10% apabila dibayar 30 hari





102. Perhatikan data-data di bawah ini:

Persediaan barang dagang	Rp 600.000
Pembelian	Rp 2.250.000
Biaya angkut pembelian	Rp 37.500
Retur pembelian dan PH	Rp 75.000
HPP	Rp 2.137.500

Besarnya persediaan barang dagangan akhir dari data tersebut adalah....

- Rp 1.050.000
- Rp 937.000
- Rp 675.000
- Rp 600.000
- Rp 562.500

103. Pada tanggal 1 April 2011 diterima sewa Rp 1.200.000,00 dan dicatat sebagai akun sewa diterima dimuka. Sewa tersebut adalah untuk masa satu tahun. Jurnal penyesuaian per 31 Desember 2011 adalah....

- Sewa diterima di muka Rp 1.200.000  
    Pendapatan sewa Rp 1.200.000
- Kas Rp 1.200.000  
    Pendapatan sewa Rp 1.200.000
- Pendapatan sewa Rp 1.200.000  
    Kas Rp 1.200.000
- Pendapatan sewa Rp 900.000  
    Sewa diterima di muka Rp 900.000
- Sewa diterima di muka Rp 900.000  
    Pendapatan sewa Rp 900.000

104. Rani menerima bunga obligasi setiap tanggal 31 April dan 31 Oktober sebesar 15 % dari nilai investasinya. Obligasi yang dimiliki Rani sebesar Rp 30.000.000,00. Jurnal penyesuaian per 31 Desember adalah ....

- Pendapatan bunga Rp 4.500.000  
    Piutang bunga Rp 4.500.000
- Utang bunga Rp 1.500.000  
    Pendapatan bunga Rp 1.500.000
- Piutang bunga Rp 1.500.000



Kas	Rp 1.500.000
d. Pendapatan bunga	Rp 900.000
Bunga diterima di muka	Rp 900.000

105. Akun sewa dibayar di muka pada rencana saldo Rp 3.600.000 adalah sewa untuk 3 tahun dihitung mulai tanggal 1 Agustus 2011. Jurnal penyesuaian per 31 Desember 2011 adalah....

a. Beban sewa	Rp 500.000	
Sewa dibayar di muka		Rp 500.000
b. Beban sewa	Rp 3.600.000	
Kas		Rp 3.600.000
c. Beban sewa	Rp 3.000.000	
Sewa dibayar di muka		Rp 300.000
d. Sewa dibayar di muka	Rp 500.000	
Kas		Rp 500.000
e. Beban sewa	Rp 500.000	
Kas		Rp 500.000

106. PD Melawai memperoleh laba bersih senilai Rp 3.500.000, maka jurnal penutupnya adalah....

a. Laba bersih	Rp 3.500.000	
Modal		Rp 3.500.000
b. Ikhtisar L/R	Rp 3.500.000	
ModaL		Rp 3.500.000
c. Ikhtisar L/R	Rp 3.500.000	
Laba bersih		Rp 3.500.000
d. Modal saham	Rp 3.500.000	
Ikhtisar L/R		Rp 3.500.000
e. Laba bersih	Rp 3.500.000	
Ikhtisar L/R		Rp 3.500.000

107. Jika neraca sebuah perusahaan terdapat unsur-unsur:

Kewajiban jangka panjang	Rp 5.000.000
Aktiva lancar	Rp 7.745.660
Kewajiban jangka pendek	Rp 7.326.500



Ekuitas Rp 11.550.500

Maka jumlah aktiva tetap adalah....

- a. Rp 23.877.000
- b. Rp 18.877.000
- c. Rp 16.131.340
- d. Rp 13.877.000
- e. Rp 11.131.340

108. Berikut ini yang merupakan macam-macam pemberdayaan anggota koperasi dalam pembangunan koperasi adalah.....
- a. Memberikan tunjangan finansial kepada para anggota.
  - b. Memenuhi semua keinginan anggota.
  - c. Menambah SHU bagi para anggota.
  - d. Meningkatkan skill dengan pendidikan dan pelatihan koperasi.
  - e. Meningkatkan permodalan koperasi.
109. Suatu indikator yang dapat dijadikan tumpuan dalam program pembangunan suatu koperasi diantaranya, kecuali.....
- a. Memilih anggota yang memiliki kualitas yang baik.
  - b. Mempunyai program kegiatan yang terencana.
  - c. Keberagaman tujuan koperasi yang dimiliki para anggota.
  - d. Kegiatan usaha koperasi yang terstruktur.
  - e. Memilih pengurus yang berdedikasi tinggi.
110. (1) Koperasi Simpan Pinjam diarahkan melakukan *interlending* dengan Koperasi daerah yang berada di sekitarnya yang lebih miskin.  
(2) Kerjasama koperasi yang memiliki cukup modal dengan koperasi daerah yang sejenis.  
(3) Koperasi yang telah terbina bersama-sama dengan investor mengelola *strategic asset* yang ada.  
(4) Koperasi menjadi *monopoly* dalam pengelolaan potensi alam.  
(5) Koperasi sebagai sarana pemberdayaan masyarakat bersamaan dengan penciptaan iklim yang kondusif bagi masuknya investor.  
Peran-peran apasajakah yang dilakukan koperasi sebagai suatu badan usaha dalam mendukung program pemerintah daerah.....



- a. 1,2,3,4
  - b. 2,3,4,5
  - c. 1,3,4,5
  - d. 1,2,3,5
  - e. 1,2,4,5
111. Tahap anjang koperasi sebagai awal pembentukan jiwa berkoperasi anak dibawah ini yang benar adalah.....
- a. Penanaman jiwa koperasi melalui pembelajaran koperasi di sekolah.
  - b. Mengajarkan anak dalam mengelola koperasi sekolah.
  - c. Mengajarkan anak tentang bergotong royong di lingkungan masyarakat.
  - d. Membiasakan siswa untuk memanfaatkan koperasi di sekolahnya.
  - e. Membiasakan sikap tolong menolong antar anggota keluarga.
112. Yang menjadi agenda pokok dalam kongres kedua koperasi seluruh Indonesia di Bandung adalah.....
- a. Mendesak pemerintah untuk lebih mengistimewakan koperasi dibandingkan dengan pelaku ekonomi lainnya.
  - b. Mendesak pemerintah untuk memasukkan materi koperasi dalam kurikulum di seluruh tingkatan pendidikan.
  - c. Mendesak pemerintah untuk memperbaiki UU koperasi.
  - d. Mendesak pemerintah untuk mendirikan koperasi unit desa di setiap kecamatan.
  - e. Mendesak pemerintah untuk menghapus pajak dalam organisasi koperasi.
113. Berdasarkan surat Keputusan Menteri Tenaga Kerja, Transmigrasi, dan Koperasi Nomor 633/SKPTS/Men/1974, tingkat pendidikan yang harus didirikan koperasi sekolah adalah, kecuali.....
- a. Lembaga Bimbingan Belajar Non Formal
  - b. SMA
  - c. Pesantren
  - d. SMP
  - e. Madrasah



114. Manfaat dari pendirian koperasi sekolah adalah, kecuali.....
- Membantu program pembangunan pemerintah di sektor perkoperasian melalui program pendidikan sekolah.
  - Menumbuhkan kesadaran berkoperasi di kalangan siswa.
  - Membina rasa tanggung jawab, disiplin, setia kawan, dan jiwa koperasi.
  - Meningkatkan pengetahuan siswa tentang bisnis dengan koperasi sebagai badan usahanya.
  - Meningkatkan pengetahuan siswa tentang kecurangan bisnis dengan koperasi sebagai alibinya.
115. Dalam koperasi sekolah, yang berhak ditunjuk untuk menjabat sebagai dewan penasihat koperasi sekolah adalah.....
- Ketua OSIS
  - Ketua kelas
  - Perwakilan orang tua murid
  - Tata Usaha
  - Siswa berprestasi
116. Kekuasaan tertinggi dalam pengambilan keputusan di koperasi sekolah terletak di tangan.....
- Kepala sekolah
  - Dewan pembina
  - Rapat wali murid
  - Rapat anggota
  - Rapat dewan guru
117. Dalam satu tahun, Rapat Anggota Tahunan (RAT) diadakan paling sedikit.....sekali.
- 1
  - 2
  - 3
  - 4
  - 5



118. Dalam Rapat Anggota Tahunan (RAT), beberapa agenda rapat yang diagendakan untuk dibahas adalah kecuali.....
- Menetapkan kebijakan umum koperasi
  - Memberhentikan pengurus
  - Menetapkan anggaran dasar koperasi
  - Menetapkan pergantian UU koperasi
  - Menetapkan kebijakan umum koperasi
119. SHU yang diperoleh oleh koperasi akan dialokasikan ke dalam pos-pos berikut ini kecuali.....
- Jasa Anggota
  - Pengurus
  - Dana sosial
  - Dana karyawan
  - Pengamat koperasi
120. Pembagian SHU pada Koperasi A sebagai berikut:
- 35% Cadangan
  - 40% Jasa anggota
  - 10% Dana pengurus
  - 5% Dana karyawan
  - 5% Dana pendidikan
  - 5% Dana sosial
- Jika SHU sebelum pajak sebesar Rp2.000.000,00 dengan pengenaan pajak sebesar 10%, maka alokasi SHU untuk dana cadangan adalah sebesar.....
- Rp 720.000,00
  - Rp 700.000,00
  - Rp 635.000,00
  - Rp 630.000,00
  - Rp 360.000,00
121. Berdasarkan soal No.13, SHU jasa anggota sebesar.....
- Rp 720.000,00
  - Rp 700.000,00
  - Rp 635.000,00



- d. Rp 630.000,00
- e. Rp 800.000,00

122. Diketahui:

SHU sesudah pajak di koperasi B sebesar Rp5.000.000,00

Dengan rincian alokasi pembagian SHU sebagai berikut:

- a) 30% Cadangan
- b) 50% Jasa anggota
- c) 5% Dana pengurus
- d) 5% Dana karyawan
- e) 5% Dana pendidikan
- f) 5% Dana sosial

Total simpanan seluruh anggota koperasi sebesar Rp 1.000.000,00

Total transaksi usaha anggota koperasi sebesar Rp 1.000.000,00

Ketetapan RAT alokasi jasa modal 40% dan jasa usaha 60%.

SHU jasa modal yang diterima Pak Danish jika dia memiliki nilai simpanan anggota sebesar Rp 200.000,00 adalah.....

- a. Rp100.000,00
- b. Rp200.000,00
- c. Rp300.000,00
- d. Rp400.000,00
- e. Rp500.000,00

123. Berdasarkan soal No.15, SHU jasa usaha yang diterima Pak Danish jika dia memiliki nilai jasa usaha sebesar Rp500.000,00 adalah sebesar.....

- a. Rp250.000,00
- b. Rp500.000,00
- c. Rp750.000,00
- d. Rp1.000.000,00
- e. Rp1.250.000,00

124. Berdasarkan soal No.15, jadi total SHU yang diterima Pak Danish di koperasi B adalah.....

- a. Rp500.000,00
- b. Rp750.000,00



- c. Rp1.000.000,00
  - d. Rp1.250.000,00
  - e. Rp1.500.000,00
125. Ciri dan watak seorang wirausaha koperasi adalah kecuali.....
- a. Berjiwa inovatif dan kreatif.
  - b. Mempunyai kemampuan dalam mengambil resiko dan mengambil keputusan secara cepat dan cermat.
  - c. Mempunyai kepercayaan yang kuat pada diri sendiri.
  - d. Menghalalkan segala cara untuk mencapai tujuan koperasi.
  - e. Melakukan kerja keras untuk mencapai tujuan koperasi.
126. Tugas wirakop yang kurang tepat dalam memajukan kegiatan perkoperasian adalah.....
- a. Pemanfaatan capital secara total
  - b. Menciptakan *economis of scale*
  - c. Mampu memaksimalkan biaya transaksi
  - d. Mampu menciptakan inovasi
  - e. Mampu memaksimalkan *revenue*
127. Memaksimalkan total penerimaan koperasi dan menekan total biaya koperasi merupakan tugas dari.....
- a. Kewirakoperasian Birokrat
  - b. Kewirakoperasian Anggota
  - c. Kewirakoperasian Dewan Pembina
  - d. Kewirakoperasian Katalis
  - e. Kewirakoperasian Manager
128. Pernyataan di bawah ini merupakan kebaikan dan kekurangan dari perusahaan perseorangan:
1. Laba perusahaan jatuh ke tangan satu orang
  2. Mudah dalam mengambil keputusan
  3. Tanggung jawab pemilik tidak terbatas
  4. Kelangsungan hidup perusahaan kurang terjamin
  5. Pendirian badan usaha mudah dan murah





6. Kerugian ditanggung sendiri

Pernyataan di atas yang merupakan kelemahan dari perusahaan perseorangan adalah....

- a. 1, 2 dan 3
- b. 1, 3 dan 5
- c. 1, 4 dan 6
- d. 2, 4 dan 5
- e. 3, 4 dan 6

129. Perhatikan matrik berikut ini:

<b>A</b>	<b>B</b>	<b>C</b>
1. menghasilkan produk yang bermutu	1. alih teknologi	1. pemeratakan pendapatan masyarakat
2. meningkatkan ekspor	2. menghasilkan laba	2. perbaikan lingkungan hidup
3. memperluas kesempatan kerja	3. sumber penerimaan negara	3. Efisiensi biaya produksi

Berdasarkan matrik tersebut di atas, yang merupakan fungsi sosial dari badan usaha adalah....

- a. A1, B2 dan C3
- b. A1, B3 dan C1
- c. A2, B3 dan C1
- d. A3, B1 dan C2
- e. A3, B3 dan C1

130. Seorang manajer menjelaskan kepada para bawahannya mengenai tujuan organisasi yang harus dicapai. Manajer tersebut juga menjelaskan proses yang perlu dilakukan untuk mencapai tujuan organisasi dan imbalan yang akan diterima karyawan jika tujuan organisasi tercapai. Tindakan manajer tersebut disebut....

- a. *Planning*
- b. *Coordinating*
- c. *Controlling*



- 
- d. *Directing*
  - e. *Evaluating*



## Lembar Asesmen 3

### LEMBAR KEGIATAN DESAIN PENELITIAN TINDAKAN KELAS

(DITULIS DENGAN TULISAN TANGAN)

---

---

---

*(Tuliskan Judul Penelitian Tindakan Kelas)*

Nama : \_\_\_\_\_

No. Peserta : \_\_\_\_\_

Kelas : \_\_\_\_\_

**KEMENTERIAN PENDIDIKAN NASIONAL  
PENDIDIKAN DAN LATIHAN PROFESI GURU (PLPG)  
2013**



**A. LatarBelakang**

Deskripsikan masalah yang ditemui di kelas!

---

---

---

---

---

---

---

---

---

---

Deskripsikan **bukti** adanya masalah tersebut! (dari mana masalah itu diketahui?)

---

---

---

---

---

---

---

---

---

---

Deskripsikan **akar penyebab** masalah!

---

---

---

---

---

---

---

---



Deskripsikan **alternatif tindakan dan pilihan tindakan** untuk mengatasi/menyelesaikan masalah!

---

---

---

---

---

---

---

**B. Rumusan Masalah**

---

---

---

---

---

---

---

**C. Tujuan Penelitian**

---

---

---

---

---

---

---

**D. Manfaat Penelitian**

Bagi siswa

---

---

---



Bagi Guru

---

---

---

Bagi Peneliti Lain

---

---

---

**E. Definisi Operasional Variabel**

---

---

---

---

---

**F. Kerangka Teoretis**

Deskripsikan konsep, prinsip, dan prosedur pada yang akan ditingkatkan dan dengan cara apa ditingkatkan

---

---

---

---

---

---

---

---

---

---

---

---





---

**Penelitian Yang Relevan**

---

---

---

---

---

---

---

---

---

---

**Kerangka Pikir**

---

---

---

---

---

---

---

---

---

---

---

---

---

---

---

---

---

---

---

---

---

---

---

---

**Pengajuan Hipotesis Tindakan**

---

---

---

**G. Metode Penelitian**

**1. Rancangan Penelitian**

---

---

---







---

---

---

**c. Fase Refleksi**

---

---

---

---

---

---

**5. Teknik Pengumpulan Data**

---

---

---

---

---

---

**6. Instrumen**

---

---

---

---

---

---

**7. Teknik Analisis Data**

---

---

---

---

---

---



---

**8. Indikator Keberhasilan**

---

---

---

---

---

---

**9. Jadwal**





## 1. Lembar Penilaian Produk Proposal

Setelah Anda menyelesaikan tugas membuat proposal PTK, lakukan penilaian diri untuk mengetahui seberapa jauh Anda telah bekerja dengan baik atau masih memerlukan peningkatan. Agar mudah melakukannya, gunakan lembar penilaian proposal yang disediakan.

Lembar Penelitian Produk Proposal

Petunjuk:

1. Bacalah Proposal yang telah Anda buat, bandingkan tiap-tiap komponen PTK di dalam proposal Anda dengan Kriteria yang terdapat di dalam Lembar Penilaian Proposal berikut.
2. Isilah Kolom 5 (Skor) dengan nilai 1, 2, 4, atau 5 (tidak ada nilai 3) untuk tiap-tiap kriteria. Skor 5 jika apa yang Anda tulis di dalam proposal Anda sama dengan tuntutan yang diminta di dalam Kriteria (kolom 3). Makin jauh dari tuntutan kriteria, nilai makin rendah. Nilai 1 kurang sekali; 2 Kurang; 4 Baik; 5 Baik sekali
3. Isilah Kolom 6 dengan mengalikan bobot x skor.
4. Hitunglah Nilai Akhir dengan rumus:  $\sum (\text{Bobot} \times \text{skor})$
5. Anda dinyatakan Lulus jika Nilai akhir Anda : 350 dari total skor 500

No	Komponen	Kriteria	Bobot	Skor	Bobot x Skor
1	2	3	4	5	6
1	Judul	<ul style="list-style-type: none"> <li>• Maksimal 15 kata</li> <li>• Menggambarkan masalah yang diteliti, tindakan untuk mengatasi masalah</li> </ul>	5		
2	Pendahuluan	<ul style="list-style-type: none"> <li>• Masalah nyata dalam bidang pendidikan/pembelajaran diperkuat dengan data</li> <li>• Penyebab masalah jelas</li> <li>• Dampak masalah jika tidak diatasi diuraikan dengan argumentasi yang kuat</li> </ul>	20		
3	Rumusan dan Pemecahan Masalah	<ul style="list-style-type: none"> <li>• Rumusan masalah dalam bentuk rumusan pertanyaan mengandung dua atau lebih variabel yang dipertanyakan</li> </ul>	25		



No	Komponen	Kriteria	Bobot	Skor	Bobot x Skor
1	2	3	4	5	6
		hubungannya • Jelas lingkup penelitiannya			
4	Tujuan	• Sesuai dengan rumusan masalah, rumusan tujuan dapat diketahui tercapai tidaknya saat peneitian dinyatakan selesai	5		
5	Manfaat	• Jelas manfaat hasil penelitiannya. Rumusan manfaat akan diperoleh jika hasil penelitian diterapkan	5		
6	Kajian Pustaka	• Relevansi antara konsep/teori yang dikaji dengan permasalahan • Relevansi teori dan hasil penelitian terkait antar variabel • Jelas kerangka berpikir penelitiannya	15		
7	Prosedur Penelitian	• Jelas subjek, tempat, dan waktu penelitian • Ada perencanaan rinci langkah-langkah penelitian tiap siklus (termasuk perangkat pembelajaran dan instrumen jika ada).	20		
8	Lain-lain	• Jadwal penelitian jelas menggambarkan waktu pelaksanaan • Daftar Pustaka relevan dan penulisannya sesuai ketentuan	5		
TOTAL			100		